


# Intervall (Tonabstand)

Arbeitsblatt 1


# Lösungen

Name \_\_\_\_\_

Grobbestimmung: Wie heissen folgende Intervalle?




**Terz** 3    **Quint** 5    **Oktav** 8    **Sekund** 2    **Quart** 4    **Sext** 6    **Sept** 7    **Quint** 5




**Quart** 4    **Sext** 6    **Terz** 3    **Quint** 5    **Oktav** 8    **Sekund** 2    **Quart** 4    **Oktav** 8

Feinbestimmung: Wie heissen folgende Sekunden und Terzen? (Abkürzungen: k2, g2, k3, g3)



**k2**    **g2**    **g2**    **k2**    **g3**    **k3**    **k3**    **g3**



**k3**    **k2**    **k3**    **g2**    **g2**    **k3**    **g3**    **k2**

	GT	HT	
	1/2	1	k12 (keine schwarze T.)
	1	2	gr2
	1 1/2	3	k13 (nur 1 schw. Taste)
	2	4	gr3

